



RAILWAY RECRUITMENT BOARDS

रेलवे भर्ती बोर्ड

RRB NTPC Graduate 19th Jan 2017 Shift 1

Roll No:	
Participants Name:	
Test Center Name:	
Test Date:	19/01/2017
Test Time:	9:00 AM - 10:30 AM
Subject:	RRB NTPC Graduate

- Options shown in green color with a tick icon are correct
- Chosen option on top right of the question indicates the option selected by the candidate

Q.1 A monkey sitting on a branch of a tree suddenly falling down towards the ground is an example of _____.
एक पेड़ की शाखा पर बैठे एक बंदर का अचानक जमीन की ओर नीचे गिरना _____ का एक उदाहरण है।

Question ID : 9888374641

Status : Answered

Chosen Option : 2

- Ans**
- 1. Law of conservation of mass
संहति-संरक्षण के नियम
 - 2. Law of conservation of energy
ऊर्जा-संरक्षण के नियम
 - 3. Kepler's laws
केपलर के नियमों
 - 4. Newton's third law of motion
न्यूटन के गति के तीसरे नियम

Q.2 If ABSENT = BDIVSZ, then SCHOOL will be coded as:
यदि ABSENT = BDIVSZ है, तो SCHOOL का कोड क्या है?

Question ID : 9888374706

Status : Answered

Chosen Option : 3

- Ans**
- 1. TEKRRS
 - 2. TKERTS
 - 3. TEKSTR
 - 4. TKESSR

Q.3 0.1, 0.9, 0.01, 0.09, _____, 0.009

Question ID : 9888374701

Status : Answered

Chosen Option : 2

- Ans**
- 1. 0.1010
 - 2. 0.001
 - 3. 0.0001
 - 4. 0.01

Q.4 If P means 'subtraction', Q means 'division', R means 'addition' and S means 'multiplication', then 15 Q 3 R 24 P 12 S 2 = ?

Question ID : 9888374708

Status : Answered

Chosen Option : 4

यदि P का अर्थ 'घटाव' है, Q का अर्थ 'भाग' है, R का अर्थ 'जोड़' और S का अर्थ 'गुणा' है, तो 15 Q 3 R 24 P 12 S 2 = ?

- Ans**
- 1. 7
 - 2. 29
 - 3. 9
 - 4. 5

Q.5 Rhinoscope is an instrument for examining the _____.

राइनोस्कोप _____ की जाँच करने का एक उपकरण है।

- Ans
- 1. Nose
नाक
 - 2. Eyes
आँख
 - 3. Brain
मस्तिष्क
 - 4. Ears
कान

Question ID : 9888374645

Status : Marked For Review

Chosen Option : 4

Q.6 Simplify: $x(x - 2) + 3x(x - 3)$

सरल कीजिए : $x(x - 2) + 3x(x - 3)$

- Ans
- 1. $4x^2 - 11x$
 - 2. $4x^2 + 5x$
 - 3. $4x^2 + 11x$
 - 4. $4x^2 - 5x$

Question ID : 9888374687

Status : Answered

Chosen Option : 1

Q.7 The cash difference between the selling price of an article at a profit of 8% and 10% is Rs.3. The ratio of two selling prices is:

एक वस्तु को 8% तथा 10% के लाभों में बेचने पर विक्रय मूल्यों में 3 रुपये का अन्तर है। दोनों विक्रय मूल्यों का अनुपात है :

- Ans
- 1. 54:59
 - 2. 54:55
 - 3. 54:57
 - 4. 54:56

Question ID : 9888374685

Status : Answered

Chosen Option : 2

Q.8 Mr. Ashwani sold a bus for Rs. 510 with a loss of 15 %. At what price should the bus be sold to get a profit of 15 %?

अश्विनी एक बस को 15% हानि पर 510 रुपये में बेचता है। 15% लाभ पाने के लिए उसे इस बस को किस मूल्य पर बेचना चाहिए?

- Ans
- 1. Rs. 650
₹. 650
 - 2. Rs. 680
₹. 680
 - 3. Rs. 700
₹. 700
 - 4. Rs. 690
₹. 690

Question ID : 9888374683

Status : Answered

Chosen Option : 4

Q.9 What is NOT true regarding the voting rights under the democratic system in India?

भारत की लोकतांत्रिक प्रणाली के तहत मतदान के अधिकार के संबंध में निम्न में से कौन-सा कथन सत्य नहीं है?

- Ans
- 1. Those who are deemed unsound of mind can also vote
मानसिक रूप से अस्वस्थ लोग भी मतदान कर सकते हैं
 - 2. Only people with their names on the electoral roll are allowed to vote
केवल उन लोगों को मतदान की अनुमति है जिनके नाम मतदाता सूची में हों
 - 3. Any citizen over the age of 18 can vote
18 वर्ष से अधिक आयु का कोई भी नागरिक मतदान कर सकता है
 - 4. There is no gender discrimination
इसमें कोई लैंगिक भेदभाव नहीं है

Question ID : 9888374635

Status : Answered

Chosen Option : 3

Q.10 The theme of World Environment Day 2016 was:

विश्व पर्यावरण दिवस 2016 की थीम थी:

Ans Green Economy: Does it include you?

1. हरित अर्थव्यवस्था: क्या इसमें आप शामिल हैं?

2.

Zero tolerance for the illegal trade in wildlife

वन्य जीवों के अवैध व्यापार के लिए पूर्ण असहिष्णुता

3. Small Islands and Climate Change

छोटे द्वीप और जलवायु परिवर्तन

4.

Seven Billion Dreams; One Planet; Consume with Care

सात अरब सपने; एक ग्रह; देखभाल के साथ उपभोग

Question ID : 9888374628

Status : Answered

Chosen Option : 4

Q.11 If A denotes 'add', B denotes 'subtract', C denotes 'multiply' and D denotes 'divide', which of the following is correct?

यदि A का अर्थ 'जोड़', B का अर्थ 'घटाव', C का अर्थ 'गुणा' और D का अर्थ 'भाग' है, तो इनमें से कौन-सा सही है?

Ans 1. $36 C 4 D 8 B 7 A 4 = 10$

$36 C 4 D 8 B 7 A 4 = 10$

2. $16 C 12 A 49 D 7 B 9 = 200$

$16 C 12 A 49 D 7 B 9 = 200$

3. $8 C 8 A 8 D 8 B 8 = 57$

$8 C 8 A 8 D 8 B 8 = 57$

4. $32 D 8 C 9 = 160 B 12 C 12$

$32 D 8 C 9 = 160 B 12 C 12$

Question ID : 9888374709

Status : Answered

Chosen Option : 3

Q.12 18 men built a tanker in 25 days. How many days would it take for 10 men?

18 आदमी एक टैंकर को 25 दिनों में बनाते हैं। 10 आदमी इसी टैंकर को कितने दिनों में बना सकते हैं?

Ans 1. 45.2

2. 45

3. 45.1

4. 46

Question ID : 9888374674

Status : Answered

Chosen Option : 2

Q.13 If COME is coded as EMOC, then TRAIN is coded as:

यदि COME को EMOC के रूप में कोड किया जाता है, तो TRAIN को _____ के रूप में कोड किया जाएगा।

Ans 1. NRIAT

2. NIART

3. NIRAT

4. NAIRT

Question ID : 9888374707

Status : Answered

Chosen Option : 2

Q.14 Choose the odd one from the following:

निम्नलिखित में से क्या अन्य से मेल नहीं खाता?

Ans 1. HOCKEY

हॉकी

2. FOOTBALL

फुटबॉल

3. CHESS

शतरंज

4. BASEBALL

बेसबॉल

Question ID : 9888374711

Status : Answered

Chosen Option : 3

Q.15 Which of the following is NOT a modifier key in an IBM compatible computer?

निम्न में से कौन-सी कुंजी (की) आईबीएम संगत कंप्यूटर की मॉडिफायर कुंजी नहीं है?

- Ans
- 1. Ctrl
 - 2. Windows key
 - 3. Tab
 - 4. Shift

Question ID : 9888374653

Status : Marked For Review

Chosen Option : 2

Q.16 Which one does NOT belong to the category of metallic minerals?

निम्न में से क्या धात्विक खनिजों की श्रेणी से संबंधित नहीं है?

- Ans
- 1. Coal
कोयला
 - 2. Nickel
निकल
 - 3. Bauxite
बॉक्साइट
 - 4. Tin
टिन

Question ID : 9888374649

Status : Answered

Chosen Option : 1

Q.17 Q3C, S5E, U8G, W12I, _____

- Ans
- 1. X17K
 - 2. Y15K
 - 3. Z15K
 - 4. Y17K

Question ID : 9888374703

Status : Answered

Chosen Option : 4

Q.18 There are total 200 students in a school, of which $\frac{3}{10}$ are boys. Find the number of girls in the school.

एक विद्यालय में 200 विद्यार्थी हैं, जिनमें से $\frac{3}{10}$ भाग लड़के हैं। विद्यालय में लड़कियों की संख्या जात कीजिए।

- Ans
- 1. 140
 - 2. 60
 - 3. 40
 - 4. 120

Question ID : 9888374662

Status : Answered

Chosen Option : 1

Q.19 The engine of the _____, is the oldest working steam locomotive in the World.

_____ का इंजन, विश्व का सबसे पुराना कार्यशील भाप इंजन है।

- Ans
- 1. Palace on Wheels
पैलेस ऑन व्हील्स
 - 2. Maharaja Express
महाराजा एक्सप्रेस
 - 3. Fairy Queen
फेयरी क्वीन
 - 4. Golden Chariot
गोल्डन चेरियट

Question ID : 9888374660

Status : Answered

Chosen Option : 3

Q.20 Who won the 'Man Booker prize 2016' for the book *The Sellout*?



'द सेलआउट' नामक किताब के लिए 2016 का मैन बुकर पुरस्कार किसे मिला?

- Ans
- 1. J M Coetzee
जे एम कोएट्जी
 - 2. David Szalay
डेविड शाले

Question ID : 9888374636

Status : Answered

Chosen Option : 4

-  3. Madeleine Thien
मेडेलीन थिएन
-  4. Paul Beatty
पॉल बेटी

Q.21 In a class test, a student scored 8 marks out of 25 marks. The student's marks in percentage is:
एक परीक्षा में एक विद्यार्थी 25 में से 8 अंक अर्जित करता है। विद्यार्थी के अंक प्रतिशत में है:

- Ans**
-  1. 29
-  2. 32
-  3. 35
-  4. 30

Question ID : 9888374686

Status : Answered

Chosen Option : 2

Q.22 Below are given statements followed by some conclusions. You have to take the given statements to be true even if they seem to be at variance with the commonly known facts and then decide which of the given conclusions logically follow(s) from the given statements.

Statements:

All women are married.

Some women are educated.

Conclusions:

I. Some married are educated.

II. Some educated are married.

नीचे कुछ कथन और उनके निष्कर्ष दिए गए हैं। आपको इन कथनों को सच मानना है भले ही वे सामान्यतः ज्ञात तथ्यों से भिन्न लगते हों, और फिर यह तय करना है कि दिए गए कौन-से निष्कर्ष इन कथनों का तार्किक रूप से पालन करते हैं।

कथन:

सभी महिलाएँ विवाहित हैं।





कुछ महिलाएँ शिक्षित हैं।

निष्कर्ष:

I. कुछ विवाहित शिक्षित हैं।

II. कुछ शिक्षित विवाहित हैं।

Ans **Only conclusion II follows**

-  1. केवल निष्कर्ष II पालन करता है
-  2. **Only conclusion I follows**
केवल निष्कर्ष I पालन करता है
-  3. **Either only I or only II follows**
या तो केवल I या केवल II पालन करता है
-  4. **Both I and II follow**
I और II दोनों पालन करते हैं

Q.23

Question ID : 9888374732

Status : Answered

Chosen Option : 4

A question and two statements labeled (I), (II) are given. You have to decide which statement(s) is/are sufficient to answer the question.

Ans Statement II alone is sufficient.

1. अकेला कथन II पर्याप्त है।
 II. The scheduled departure is at 10.30 hrs.
 Data insufficient

2. सूचना अपर्याप्त है।) और (II) दिए गए हैं। आपको यह

3. Statement I alone is sufficient. के लिए कौन-सा/कौन-से कथन पर्याप्त है।

4. Both the statements together are needed.

5. दोनों कथन आवश्यक हैं।

I. ट्रेन सामान्यतः जयपुर समय पर छूटता है।

Q.24 What is 15% of 38? 15.30 बजे है।

38 का 15% क्या है?

Ans 1. 6

2. 5.5

3. 5.7

4. 5

Question ID : 9888374688

Status : Answered

Chosen Option : 3

Q.25 An ordinary magnet does not attract _____.

एक साधारण चुंबक _____ को आकर्षित नहीं करता है।

Ans 1. Bronze

2. Steel

3. Iron

4. Nickel

5. निकल

Question ID : 9888374643

Status : Answered

Chosen Option : 1

Q.26 The main mountain ranges of India do NOT include:

भारत की मुख्य पर्वत श्रृंखलाओं में यह शामिल नहीं है:

Ans 1. Vindhya

2. Hindu Kush

3. Aravalli

4. Satpura

5. सतपुड़ा

Question ID : 9888374617

Status : Marked For Review

Chosen Option : 2

Q.27 Mr. Akhil invested Rs.13,500 in FD. How much will he get on maturity, if he invested it at 20% per annum compound interest for 6 months, compounded quarterly?

अखिल 13,500 रुपये एफडी में निवेश करता है। परिपक्वता होने पर उसे कूल कितनी राशि प्राप्त होगी, यदि उसने यह धनराशि 6 महीनों के लिए 20% वार्षिक चक्रवृद्धि ब्याज की दर पर निवेश की है और ब्याज तिमाही संयोजित होता है?

Ans 1. Rs. 14,883.5

2. रु. 14,883.5

3. Rs. 14,883.35

4. रु. 14,883.35

Question ID : 9888374682

Status : Answered

Chosen Option : 4



**रेलवे भर्ती बोर्ड (आरआरबी)
परीक्षा अध्ययन सामग्री**

- 100% Syllabus Covered
- 4 Comprehensive Books
- 1000 Pages
- Current Affairs (PDF)
- Practice MCQs
- Support and Guidance

Only
~~₹6,000/-~~
₹1,995/-
70% Off


www.rrbportal.com

प्रिय अभ्यर्थियों,

आज इस गलाकाट प्रतिस्पर्धा के दौर में, हर जगह, हर क्षेत्र में मारामारी है। बात अगर सरकारी नौकरी की हो तो प्रतिस्पर्धा और भी कड़ी हो जाती है। जैसा की आप सभी जानते हैं RRBPORTAL विगत वर्षों से आप सबों को अंग्रेजी माध्यम में एक समग्र पाठ्यक्रम एवं मार्गदर्शन उपलब्ध करा रहा है। हमारे अध्ययन सामग्री की सफलता की दर करीब 70% है। विगत कुछ वर्षों की सरकारी विज्ञप्तियों (VACANCIES) पर नजर डालें तो आप देखेंगे की सर्वाधिक संख्या Railway के विज्ञप्तियों की है, और उसी अनुपात में भीड़ भी।

मित्रों इस परीक्षा में अंग्रेजी एवं हिंदी माध्यम के छात्र लगभग समान संख्या में सम्मिलित होते हैं, लेकिन हिंदी माध्यम से तैयारी करने वाले छात्रों के साथ सबसे बड़ी समस्या विश्वसनीय अध्ययन सामग्री एवं सही मार्गदर्शन की है।

आपकी इन्हीं समस्याओं और मांग को विचार में रखकर हमने नववर्ष में आपको हिंदी माध्यम में रेलवे भर्ती बोर्ड (आरआरबी), अध्ययन सामग्री उपलब्ध कराने का निर्णय लिया है। मित्रों हमने इस बात का पूरा ध्यान रखा है की आपको पाठ्यक्रम के अनुसार सारी चीजें एक जगह मिलें। हमने व्यवस्थित तरीके से लगभग 800 पृष्ठों में इस अध्ययन सामग्री को परीक्षोपयोगी बनाया है।

आप क्या प्राप्त करेंगे?

- माध्यम: हिन्दी
- 100 प्रतिशत पाठ्यक्रम
- 838 पृष्ठ
- कुल 6 पुस्तिकायें
- Guidance & Support from Our Experts

Price of the Kit:

Rs. 4,000

Rs. 1,995/-
(Limited time Offer)



Order Online (100% Safe)

अन्य भुगतान विकल्प (Offline Payment Options)

**50%
OFF**

CLICK HERE

Disclaimer: RRB EXAM PORTAL वेबसाइट किसी भी प्रकार से रेलवे भर्ती बोर्ड (RRB) के साथ संबद्ध नहीं है, रेलवे भर्ती बोर्ड एवं भारतीय रेलवे की आधिकारिक वेबसाइट पर जाने के लिए www.rrcb.gov.in पर विजिट करें।

3. Rs. 14,883
 रु. 14,883
4. Rs. 14,883.75
 रु. 14,883.75

Q.28 Bhumika takes a total of 8 hours 20 minutes in *walking* a distance and *cycling* back to same place where she started. She could *walk* both ways in 12 hours 15 minutes. The time taken by her to *cycle* both ways is:

भूमिका एक दूरी को पैदल तय करने और साइकिल से वापस शुरूआती स्थान पर आने में कुल 8 घंटे 20 मिनट का समय लेती है। वह दोनों ओर का रास्ता पैदल 12 घंटे 15 मिनट में तय कर सकती है। साइकिल पर दोनों ओर का रास्ता तय करने में उसे कुल कितना समय लगेगा?

- Ans**
1. 4 hours 25 min
 4 घंटे 25 मिनट
2. 4 hours 45 min
 4 घंटे 45 मिनट
3. 4 hours 35 min
 4 घंटे 35 मिनट
4. 4 hours 15 min
 4 घंटे 15 मिनट

Question ID : 9888374678

Status : Answered

Chosen Option : 1

Q.29 Linux is an example of:

लिनक्स इसका एक उदाहरण है:

- Ans**
1. Operating System
 ऑपरेटिंग सिस्टम
2. Assembly Language
 असेंबली लैंग्वेज
3. Application Software
 एप्लीकेशन सॉफ्टवेयर
4. Programming Language
 प्रोग्रामिंग लैंग्वेज

Question ID : 9888374650

Status : Answered

Chosen Option : 1

Q.30 The surface area (in sq.cm.) of a sphere with radius 1.5 cm is: (Take $\pi = \frac{22}{7}$)

1.5 सेमी त्रिज्या वाले एक गोले का पृष्ठीय क्षेत्रफल (वर्ग सेमी में) क्या होगा? ($\pi = \frac{22}{7}$)

- Ans**
1. 190/21
2. 190/7
3. 198/21
4. 198/7

Question ID : 9888374691

Status : Answered

Chosen Option : 4

Q.31 Some of the greatest scientists gathered in the 1940s to figure out how to refine uranium and build an atomic bomb. What was their work called?

1940 के दशक में कुछ महानतम वैज्ञानिक यूरेनियम को परिष्कृत करने और परमाणु बम के निर्माण के लिए एकत्र हुए। उनके काम को क्या कहा गया?

- Ans**
1. Pearl Harbour Project
 पर्ल हार्बर प्रोजेक्ट
2. Atomic Heritage
 परमाणु विरासत (एटॉमिक हेरिटेज)
3. Los Alamos Project
 लॉस एलामोस प्रोजेक्ट
4. Manhattan Project
 मैनहट्टन प्रोजेक्ट

Question ID : 9888374647

Status : Not Attempted and Marked For Review

Chosen Option : --

Q.32 Which one of the following is a navigation satellite?

निम्न में से कौन-सा एक नेविगेशन उपग्रह है?

- Ans 1. IRNSS
 2. SLV-3
 3. GSLV
 4. PSLV

Question ID : 9888374654

Status : Answered

Chosen Option : 1

Q.33 Mr. Ayush borrowed Rs. 3000 at 5% per annum compound interest. The compound interest compounded annually for 2 years is:

आयुष चक्रवृद्धि ब्याज की 5% वार्षिक दर पर 3000 रुपये उधार लेता है। 2 वर्ष का चक्रवृद्धि ब्याज क्या होगा यदि ब्याज वार्षिक संयोजित होता है?

- Ans 1. Rs. 370.5
 2. रु. 370.5
 3. Rs. 3370.5
 4. रु. 3370.5
 5. Rs. 307.5
 6. रु. 307.5
 7. Rs. 3307.5
 8. रु. 3307.5

Question ID : 9888374681

Status : Answered

Chosen Option : 3

Q.34 Complete the series:

AZCXE.....

श्रृंखला को पूरा करें:

AZCXE.....

- Ans 1. V
 2. F
 3. H
 4. W

Question ID : 9888374704

Status : Answered

Chosen Option : 1

Q.35 A woman invests Rs. 100 at the start of each year at 5% compound interest per annum. How much will her investment be, at the end of the 2nd year?

एक महिला प्रत्येक वर्ष की शुरुआत में 5% की चक्रवृद्धि ब्याज दर पर 100 रुपये का निवेश करती है। दूसरे वर्ष के अंत में उसका कुल निवेश कितना होगा?

- Ans 1. Rs. 215.25
 2. रु. 215.25
 3. Rs. 215.75
 4. रु. 215.75
 5. Rs. 215
 6. रु. 215
 7. Rs. 215.5
 8. रु. 215.5

Question ID : 9888374690

Status : Answered

Chosen Option : 1

Q.36 ACE : FHJ :: OQS : _____

- Ans 1. PRS
 2. TXV
 3. TVX
 4. RPS

Question ID : 9888374698

Status : Answered

Chosen Option : 3

Q.37 _____ island is the only active volcano of India.

_____ द्वीप भारत का एकमात्र सक्रिय ज्वालामुखी है।

- Ans 1. Oyster rock
 2. ऑएस्टर रॉक

Question ID : 9888374619

Status : Not Attempted and Marked For Review

Chosen Option : --

2. Havelock
हैवलॉक
3. Barren
बैरेन
4. Viper
वाइपर

Q.38 Divide Rs. 162 in the ratio 2:3:6:7. The rupees in the respective ratios are given by:

रु. 162 को 2:3:6:7 के अनुपात में बाँटें। संबंधित अनुपात में रुपये हैं:

- Ans 1. 18, 27, 53 & 64
18, 27, 53 तथा 64
2. 18, 27, 55 & 62
18, 27, 55 तथा 62
3. 18, 27, 54 & 63
18, 27, 54 तथा 63
4. 18, 28, 53 & 63
18, 28, 53 तथा 63

Question ID : 9888374672

Status : Answered

Chosen Option : 3

Q.39 Georges Lemaitre is related with the _____.

जार्ज लेमैत्रे _____ से संबंधित हैं।

- Ans 1. Big Bang theory
बिग बैंग थ्योरी
2. Electric current
विद्युत धारा
3. Solar system
सौर मंडल
4. Deoxyribonucleic acid
डिऑक्सीराइबोन्यूक्लिक अम्ल

Question ID : 9888374646

Status : Marked For Review

Chosen Option : 1

Q.40 PALE : LEAP :: POSH : _____

- Ans 1. SHOP
2. HSPO
3. POHS
4. HSOP

Question ID : 9888374699

Status : Answered

Chosen Option : 1

Q.41 _____ became the latest sports person to win four consecutive Olympic gold medals in the same event.

_____ एक ही प्रतियोगिता में लगातार चार ओलंपिक स्वर्ण पदक जीतने वाले नवीनतम खिलाड़ी बन गए/गई हैं।

- Ans 1. Michael Phelps
माइकल फेलप्स
2. Larisa Latynina
लरीसा लैटीनिना
3. Usain Bolt
उसेन बोल्ट
4. Dipa Karmakar
दीपा करमाकर

Question ID : 9888374638

Status : Answered

Chosen Option : 3

Q.42 _____, 9, 25, 49, 121, 169

- Ans 1. 4

Question ID : 9888374700

Status : Answered

2. 1
 3. 3
 4. 2

Chosen Option : 2

Q.43 TELEX stands for:

टेलेक्स इसका संक्षिप्त रूप है:

- Ans 1. Telegram Express
 टेलीग्राम एक्सप्रेस
 2. Telecommunication Exchange
 टेलीकम्यूनिकेशन एक्सचेंज
 3. Teleprinter Exchange
 टेलीप्रिंटर एक्सचेंज
 4. Telephone Exchange
 टेलीफोन एक्सचेंज

Question ID : 9888374656

Status : Answered

Chosen Option : 2

Q.44 Find the missing term of the sequence.

AB, BA, ABC, CBA, ABCD, _____

श्रृंखला में अनुपस्थित पद का पता लगाएँ।

AB, BA, ABC, CBA, ABCD, _____

- Ans 1. DABC
 2. DCBA
 3. DBCA
 4. DBAC

Question ID : 9888374702

Status : Answered

Chosen Option : 2

Q.45

Simplify: $(7)^2 \div \left(7^{\frac{1}{2}}\right)^4$ सरल कीजिए : $(7)^2 \div \left(7^{\frac{1}{2}}\right)^4$

- Ans 1. 1/14
 2. 1
 3. 14
 4. 7

Question ID : 9888374668

Status : Answered

Chosen Option : 2

Q.46 'Airlander 10', the World's largest hybrid airship, which had its first test flight in August 2016, was designed and manufactured in ____.

अगस्त 2016 में अपनी पहली परीक्षण उड़ान भरने वाले दुनिया के सबसे बड़े हाइब्रिड हवाई पोत एयरलैंडर 10 का डिजाइन और निर्माण ____ में किया गया था।

- Ans 1. Russia
 रूस
 2. USA
 संयुक्त राज्य अमेरिका
 3. Germany
 जर्मनी
 4. UK
 यूनाइटेड किंगडम

Question ID : 9888374612

Status : Not Attempted and Marked For Review

Chosen Option : --

Comprehension:

A family has 6 members P, Q, R, S, T, and U.

Q is the son of R, but R is not the mother of Q. P and R are a married couple. T is the brother of R. S is the daughter of P. U is the sister of Q.

एक परिवार में 6 सदस्य हैं: P, Q, R, S, T और U.

Q R का बेटा है, लेकिन R Q की माँ नहीं है। P और R एक विवाहित युगल हैं। T R का भाई है। S P की बेटी है। U Q की बहन है।

SubQuestion No : 47

Q.4 What is the ratio of Males to Females in this family?

7 परिवार में पुरुषों और महिलाओं का अनुपात क्या है?

- Ans
- 1. 5:1
 - 2. 2:1
 - 3. 1:1
 - 4. 1:2

Question ID : 9888374718

Status : Answered

Chosen Option : 3

Comprehension:

A family has 6 members P, Q, R, S, T, and U.

Q is the son of R, but R is not the mother of Q. P and R are a married couple. T is the brother of R. S is the daughter of P. U is the sister of Q.

एक परिवार में 6 सदस्य हैं: P, Q, R, S, T और U.

Q R का बेटा है, लेकिन R Q की माँ नहीं है। P और R एक विवाहित युगल हैं। T R का भाई है। S P की बेटी है। U Q की बहन है।

SubQuestion No : 48

Q.4 Who is the son of P?

8 P का बेटा कौन है?

- Ans
- 1. Q
 - 2. R
 - 3. None of the given options
 - 4. दिए गए विकल्पों में से कोई नहीं
 - 4. T

Question ID : 9888374717

Status : Answered

Chosen Option : 1

Comprehension:

A family has 6 members P, Q, R, S, T, and U.

Q is the son of R, but R is not the mother of Q. P and R are a married couple. T is the brother of R. S is the daughter of P. U is the sister of Q.

एक परिवार में 6 सदस्य हैं: P, Q, R, S, T और U.

Q R का बेटा है, लेकिन R Q की माँ नहीं है। P और R एक विवाहित युगल हैं। T R का भाई है। S P की बेटी है। U Q की बहन है।

SubQuestion No : 49

Q.4 How many brothers does U have?

9 U के कितने भाई हैं?

- Ans
- 1. 3
 - 2. 1

Question ID : 9888374719

Status : Answered

Chosen Option : 2

3. 2

None

4.

एक भी नहीं

Q.50 The Arjuna Awardee for 2016 in the discipline of Athletics was:
2016 में एथलेटिक्स के लिए अर्जुन पुरस्कार विजेता थे/थी:

Ans



1. Lalita Babar

ललिता बाबर



2. Amit Kumar Saroha

अमित कुमार सरोहा



3. M. R. Poovamma

एम. आर. पूवम्मा



4. Tintu Luka

टिंटू लुका

Question ID : 9888374625

Status : Answered

Chosen Option : 2

Q.51 Fill in the blanks:

The Constitution of India puts a limit on the size of the Lok Sabha to _____ elected members, apart from _____ members nominated by the President to represent the Anglo-Indian community.

रिक्त स्थान भरें:

भारत के संविधान के अनुसार लोकसभा के निर्वाचित सदस्यों की निर्धारित संख्या _____ है, इसके अलावा एंग्लो-इंडियन समुदाय का प्रतिनिधित्व करने के लिए _____ सदस्य राष्ट्रपति द्वारा मनोनित किए जाते हैं।

Ans



1. 547 and 3

547 एवं 3



2. 543 and 2

543 एवं 2



3. 550 and 2

550 एवं 2



4.

Question ID : 9888374634

Status : Answered

Chosen Option : 3

Q.52

Ans



1.



2.



3.



4.

Question ID : 9888374705

Status : Answered

Chosen Option : 4

Q.53

Ans



1.



2.



3.



4.

Question ID : 9888374667

Status : Answered

Chosen Option : 2

Q.54

Ans



1.



2.



3.



4.

Question ID : 9888374630

Status : Not Attempted

Chosen Option : --

Q.55

Ans



1.



2.

Question ID : 9888374684

Status : Not Attempted and Mark ed For Review

Chosen Option : --

RRB NTPC EXAM Study Kit



- ▶ 100% Exam Syllabus Covered
- ▶ 4 Books, 950+ Pages
- ▶ Mathematics, General Intelligence & Reasoning,
- ▶ General Science, General Awareness
- ▶ Previous year Solved Papers
- ▶ Mock Tests with Answers
- ▶ 1 Year Current Affairs



₹ 6,000/-
₹ 1,999/-
Only



For RRB Exam Courses & Study Materials Call Us at: +91-8800734161

What you will get:

- 100% Syllabus Covered in printed format.
- 4 Booklets
 - General Intelligence & Reasoning
 - General Awareness
 - Arithmetic
 - General Science
- 950+ Pages
- One Year Current Affairs (PDF Copy)
- Guidance & Support from Our Experts

Price of the Kit:

Rs. 6,000

Rs. 1,999/-

(Limited time Offer)



Net Banking

Order Online (100% Safe)

अन्य भुगतान विकल्प (Offline Payment Options)

**50%
OFF**

CLICK HERE

**Disclaimer: rrbexamportal.com is not associated with Railway Recruitment Board,
For RRB official website visit - www.rrcb.gov.in**

✓ 3.

✗ 4.

Q.56

Ans ✗ 1.

✗ 2.

✗ 3.

✓ 4.

Question ID : 9888374696

Status : Answered

Chosen Option : 4

Q.57

Ans ✓ 1.

✗ 2.

✗ 3.

✗ 4.

Question ID : 9888374731

Status : Answered

Chosen Option : 1

Q.58

Ans ✗ 1.

✗ 2.

✓ 3.

✗ 4.

Question ID : 9888374722

Status : Answered

Chosen Option : 3

Q.59

Ans ✗ 1.

✗ 2.

✗ 3.

✓ 4.

Question ID : 9888374637

Status : Answered

Chosen Option : 4

Q.60

Ans ✗ 1.

✗ 2.

✗ 3.

✓ 4.

Question ID : 9888374618

Status : Answered

Chosen Option : 4

Q.61

Ans ✗ 1.

✗ 2.

✓ 3.

✗ 4.

Question ID : 9888374639

Status : Not Attempted

Chosen Option : --

Q.62

Ans ✗ 1.

✗ 2.

✗ 3.

✓ 4.

Question ID : 9888374658

Status : Answered

Chosen Option : 3

Q.63

Ans ✗ 1.

✓ 2.

✗ 3.

✗ 4.

Question ID : 9888374633

Status : Answered

Chosen Option : 2

Comprehension:

SubQuestion No : 64

Q.6
4

- Ans 1.
 2.
 3.
 4.

Question ID : 9888374725
 Status : Answered
 Chosen Option : 1

Comprehension:

SubQuestion No : 65

Q.6
5

- Ans 1.
 2.
 3.
 4.

Question ID : 9888374724
 Status : Answered
 Chosen Option : 3

Q.66

- Ans 1.
 2.
 3.
 4.

Question ID : 9888374629
 Status : Answered
 Chosen Option : 2

Q.67

- Ans 1.
 2.
 3.
 4.

Question ID : 9888374616
 Status : Answered
 Chosen Option : 1

Q.68

- Ans 1.
 2.
 3.
 4.

Question ID : 9888374680
 Status : Answered
 Chosen Option : 4

Q.69

- Ans 1.
 2.
 3.
 4.

Question ID : 9888374623
 Status : Answered
 Chosen Option : 3

Q.70

- Ans 1.
 2.
 3.
 4.

Question ID : 9888374622
 Status : Answered
 Chosen Option : 4





Q.71

- Ans 1.
 2.

Question ID : 9888374648
 Status : Answered
 Chosen Option : 4




-  3.
-  4.

Q.72

- Ans
-  1.
 -  2.
 -  3.
 -  4.


Question ID : 9888374659
Status : Answered
Chosen Option : 3

Q.73

- Ans
-  1.
 -  2.
 -  3.
 -  4.


Question ID : 9888374670
Status : Answered
Chosen Option : 1

Q.74

- Ans
-  1.
 -  2.
 -  3.
 -  4.

Question ID : 9888374614
Status : Answered
Chosen Option : 4

Q.75

- Ans
-  1.
 -  2.
 -  3.
 -  4.





Question ID : 9888374734
Status : Answered
Chosen Option : 4

Q.76

- Ans
-  1.
 -  2.
 -  3.
 -  4.





Question ID : 9888374661
Status : Answered
Chosen Option : 2

Q.77

- Ans
-  1.
 -  2.
 -  3.
 -  4.





Question ID : 9888374692
Status : Answered
Chosen Option : 4

Q.78

- Ans
-  1.
 -  2.
 -  3.
 -  4.

Question ID : 9888374615
Status : Answered
Chosen Option : 4

Q.79

- Ans
-  1.
 -  2.
 -  3.
 -  4.

Question ID : 9888374697
Status : Answered
Chosen Option : 1

Q.80

- Ans 1.
 2.
 3.
 4.

Question ID : 9888374651
Status : Answered
Chosen Option : 2

Q.81

- Ans 1.
 2.
 3.
 4.

Question ID : 9888374626
Status : Answered
Chosen Option : 2

Q.82

- Ans 1.
 2.
 3.
 4.

Question ID : 9888374669
Status : Answered
Chosen Option : 3

Q.83

- Ans 1.
 2.
 3.
 4.

Question ID : 9888374640
Status : Not Attempted and Marked For Review
Chosen Option : --

Comprehension:

SubQuestion No : 84

Q.8
4

- Ans 1.
 2.
 3.
 4.

Question ID : 9888374729
Status : Answered
Chosen Option : 1

Comprehension:

SubQuestion No : 85

Q.8
5

- Ans 1.
 2.
 3.
 4.

Question ID : 9888374730
Status : Answered
Chosen Option : 2

Comprehension:

SubQuestion No : 86

Q.8
6

- Ans 1.
 2.
 3.
 4.

Question ID : 9888374727
Status : Answered
Chosen Option : 4

Comprehension:

SubQuestion No : 87

Q.8

7

- Ans 1.
 2.
 3.
 4.

Question ID : 9888374728
 Status : Answered
 Chosen Option : 4

Q.88

- Ans 1.
 2.
 3.
 4.

Question ID : 9888374621
 Status : Answered
 Chosen Option : 3

Q.89

- Ans 1.
 2.
 3.
 4.

Question ID : 9888374679
 Status : Not Attempted
 Chosen Option : --

Q.90

- Ans 1.
 2.
 3.
 4.

Question ID : 9888374712
 Status : Answered
 Chosen Option : 4

Q.91

- Ans 1.
 2.
 3.
 4.

Question ID : 9888374695
 Status : Not Attempted and Mark
 ed For Review
 Chosen Option : --

Q.92

- Ans 1.
 2.
 3.
 4.

Question ID : 9888374666
 Status : Not Attempted and Mark
 ed For Review
 Chosen Option : --

Q.93

- Ans 1.
 2.
 3.
 4.

Question ID : 9888374613
 Status : Not Attempted and Mark
 ed For Review
 Chosen Option : --

Q.94

- Ans 1.
 2.
 3.
 4.

Question ID : 9888374710
 Status : Not Attempted and Mark
 ed For Review
 Chosen Option : --

Q.95



RRB NTPC

Railway Recruitment Board

RRB NTPC (Tier -1 & Tier -2) Exam

- [RRB NTPC \(Tier -1\) Exam](#)
- [RRB NTPC \(Tier -2\) Exam](#)
- [Exam PAPERS](#)
- [Exam Syllabus](#)
- [Eligibility](#)
- [Medical Fitness](#)
- [RRB Post Preference & Zones List](#)
- [परीक्षा सिलेबस "Exam Syllabus in Hindi"](#)
- [Printed Study Material \(English Medium\)](#)
- [RRB NTPC Exam for Aptitude Test](#)
- [RRB NTPC Exam for Typing Skill Test](#)

[CLICK HERE](#)





**Disclaimer: rrbexamportal.com is not associated with Railway Recruitment Board,
For RRB official website visit - www.rrcb.gov.in**

Ans  1.
 2.
 3.
 4.

Question ID : 9888374627
Status : Not Attempted and Marked For Review
Chosen Option : --

Q.96
Ans  1.
 2.
 3.
 4.





Question ID : 9888374715
Status : Answered
Chosen Option : 4

Q.97
Ans  1.
 2.
 3.
 4.

Question ID : 9888374694
Status : Not Attempted and Marked For Review
Chosen Option : --

Q.98
Ans  1.
 2.
 3.
 4.





Question ID : 9888374675
Status : Not Attempted and Marked For Review
Chosen Option : --

Q.99
Ans  1.
 2.
 3.
 4.

Question ID : 9888374676
Status : Not Attempted and Marked For Review
Chosen Option : --

Q.100
Ans  1.
 2.
 3.
 4.

Question ID : 9888374655
Status : Answered
Chosen Option : 4

Q.101
Ans  1.
 2.
 3.
 4.




Question ID : 9888374677
Status : Not Attempted
Chosen Option : --

Q.102
Ans  1.
 2.
 3.
 4.

Question ID : 9888374665
Status : Answered
Chosen Option : 2





Q.103

Question ID : 9888374620

Ans  1.
 2.
 3.
 4.





Status : **Answered**
Chosen Option : 2

Q.10
4

Ans  1.
 2.
 3.
 4.





Question ID : 9888374714
Status : **Answered**
Chosen Option : 2

Q.10
5

Ans  1.
 2.
 3.
 4.

Question ID : 9888374652
Status : **Answered**
Chosen Option : 4

Q.10
6

Ans  1.
 2.
 3.
 4.





Question ID : 9888374644
Status : **Answered**
Chosen Option : 4

Q.10
7

Ans  1.
 2.
 3.
 4.





Question ID : 9888374671
Status : **Not Attempted and Mark ed For Review**
Chosen Option : --

Q.10
8

Ans  1.
 2.
 3.
 4.





Question ID : 9888374721
Status : **Answered**
Chosen Option : 1

Q.10
9

Ans  1.
 2.
 3.
 4.

Question ID : 9888374689
Status : **Answered**
Chosen Option : 2

Q.11
0

Ans  1.
 2.
 3.
 4.

Question ID : 9888374624
Status : **Not Attempted and Mark ed For Review**
Chosen Option : --

Q.11
1

- Ans
- 1.
 - 2.
 - 3.
 - 4.

Question ID : 9888374631
Status : Answered
Chosen Option : 2

Q.11
2

- Ans
- 1.
 - 2.
 - 3.
 - 4.

Question ID : 9888374642
Status : Answered
Chosen Option : 3

Q.11
3

- Ans
- 1.
 - 2.
 - 3.
 - 4.

Question ID : 9888374693
Status : Answered
Chosen Option : 3

Q.11
4

- Ans
- 1.
 - 2.
 - 3.
 - 4.

Question ID : 9888374713
Status : Answered
Chosen Option : 4

Q.11
5

- Ans
- 1.
 - 2.
 - 3.
 - 4.

Question ID : 9888374663
Status : Answered
Chosen Option : 2

Q.11
6

- Ans
- 1.
 - 2.
 - 3.
 - 4.

Question ID : 9888374632
Status : Answered
Chosen Option : 4

Q.11
7

- Ans
- 1.
 - 2.
 - 3.
 - 4.

Question ID : 9888374733
Status : Answered
Chosen Option : 1

Q.11
8

- Ans
- 1.
 - 2.

Question ID : 9888374657
Status : Answered
Chosen Option : 1

-  3.
-  4.

Q.11
9

- Ans  1.
-  2.
 -  3.
 -  4.

Question ID : 9888374673
Status : Answered
Chosen Option : 1

Q.12
0

- Ans  1.
-  2.
 -  3.
 -  4.

Question ID : 9888374664
Status : Answered
Chosen Option : 4



Railway Recruitment Board (RRB) NTPC Exams Study Kit	English	CLICK HERE
रेलवे भर्ती बोर्ड एनटीपीसी (NTPC) परीक्षा अध्ययन सामग्री	हिन्दी	CLICK HERE
RRB Loco Pilot (ALP) Exam Study Kit	English	CLICK HERE
रेलवे भर्ती बोर्ड लोको पायलट (ALP) परीक्षा अध्ययन सामग्री	हिन्दी	CLICK HERE
RRB Group-D Exam Study Kit	English	CLICK HERE
रेलवे भर्ती बोर्ड Group-D परीक्षा अध्ययन सामग्री	हिन्दी	CLICK HERE
Study Kit for RRB JE (Junior Engineer) Exam	English	CLICK HERE
आरआरबी जूनियर इंजीनियर परीक्षा (चरण -1) अध्ययन किट	हिन्दी	CLICK HERE
IAS EXAMS STUDY MATERIALS		
Study Kit for IAS (Pre) GENERAL STUDIES Paper-1 (GS)	English	CLICK HERE
Study Kit for IAS (Pre) CSAT Paper-2(Aptitude)	English	CLICK HERE
सामान्य अध्ययन (GS) प्रारंभिक परीक्षा (Pre) पेपर-1	हिन्दी	CLICK HERE
आई. ए. एस. (सी-सैट) प्रारंभिक परीक्षा पेपर -2	हिन्दी	CLICK HERE
Gist of NCERT Study Kit For UPSC Exams	English	CLICK HERE